

## Activité 1 2pts

## Je répons par vrai ou faux:

La feuille est l'organe de la plante qui absorbe la lumière:.....

La feuille est l'organe de la plante qui donne des grains:.....

La fleur est l'organe de la plante qui donne des grains:.....

La racine est l'organe de la plante qui prélève l'eau et la nutrition:.....

## النشاط 2 2 نقط

1- أذكر ثلاثة مصادر للطاقة:

..... - .....

2- ما هو المصدر الذي يأخذ منه القمر الصناعي الطاقة؟

## النشاط 3 1 نقطة

1- أصل بخط:

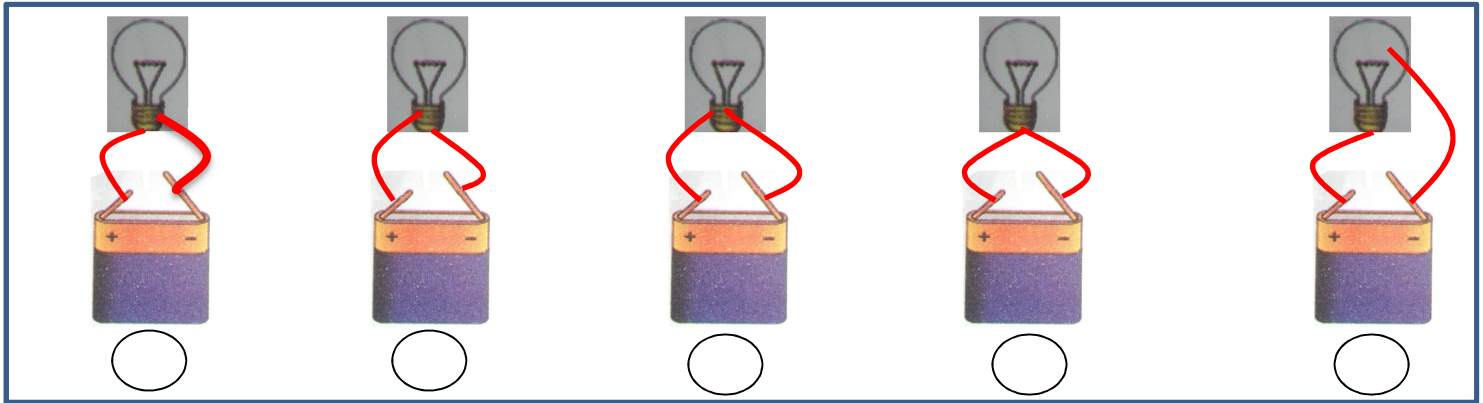
- الموصلات الحرارية
- العوازل الحرارية

مواد توصل الحرارة بشكل جيد تسمى:

مواد توصل الحرارة بشكل رديء تسمى:

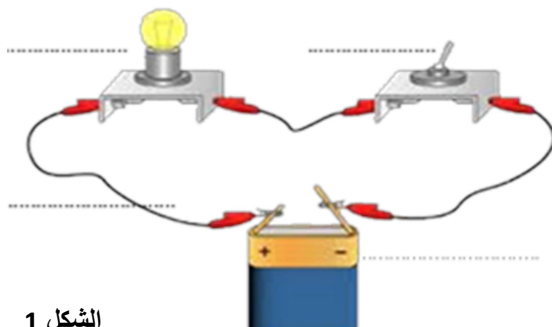
## النشاط 4 5 نقطة

1- التراكيب الكهربائية أضع علامة (x) تحت التركيب الصحيح: (2ن)




2- أضع عناصر الدارة الكهربائية في الشكل 1 في مكانها المناسب: (2ن) سلك - مصباح - بطارية - قاطع التيار.

3- أكتشف الخطأ في الدارة الكهربائية الشكل 2 وأصححه: (1ن)



الشكل 1



الشكل 2

