

الصفحة 1 6	<p>الامتحان الوطني الموحد للبكالوريا</p> <p>الدورة العادية 2017</p> <p>- الموضوع -</p>	<p>المملكة المغربية وزارة التربية الوطنية والتكوين المهني والتعليم العالي والبحث العلمي</p> <p>المركز الوطني للتقويم والامتحانات والتوجيه</p>
★	NS 27	

3	مدة الإنجاز	الفيزياء والكيمياء	المادة
5	المعامل	شعبة العلوم التجريبية مسلك علوم الحياة والأرض ومسلك العلوم الزراعية	الشعبة أو المسلك

◀ يسمح باستعمال الآلة الحاسبة العلمية غير القابلة للبرمجة

◀ تعطى التعابير الحرفية قبل إنجاز التطبيقات العددية

يتضمن موضوع الامتحان أربعة تمارين: تمرين في الكيمياء وثلاثة تمارين في الفيزياء

- الكيمياء: تفاعل الأسترة - تفاعل مزدوجتين (قاعدة/حمض) (7 نقط)
- الفيزياء: (13 نقطة)
- التمرين 1: الموجات الضوئية (2,5 نقط)
- التمرين 2: الدارة المتوالية RLC (5 نقط)
- التمرين 3: حركة جسم صلب (5,5 نقط)

الموضوع

التنقيط

الكيمياء (7 نقط): تفاعل الأسترة - تفاعل مزدوجتين (قاعدة/حمض)

الجزءان 1 و 2 مستقلان

تمكن التحولات في مجال الكيمياء من تصنيع مركبات عضوية، ودراسة محاليل مائية باعتماد طرق تجريبية مختلفة، حيث يسمح ذلك بتتبع تطور المجموعات الكيميائية وتحديد بعض المقادير المميزة.

الجزء 1: تصنيع زيت النعناع (إيثانوات المنثيل)

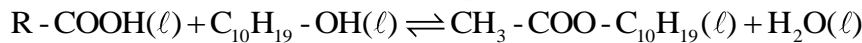
يحتوي زيت النعناع أساسا على إيثانوات المنثيل (éthanoate de menthyle) حيث يستخدم هذا الزيت في مجال العطور، وفي علاج الكثير من الأمراض. ويمكن تصنيعه انطلاقا من كحول اسمه المنثول (menthol) وحمض كربوكسيلي (A).
يهدف هذا الجزء إلى دراسة تصنيع إيثانوات المنثيل.

معطيات:

الحمض الكربوكسيلي (A)	المنثول (menthol)	إيثانوات المنثيل (éthanoate de menthyle)	المركب العضوي
R - COOH	C ₁₀ H ₁₉ - OH	CH ₃ - COO - C ₁₀ H ₁₉	الصيغة المبسطة للمركب العضوي

1. تصنيع إيثانوات المنثيل في المختبر

نحضر، عند اللحظة $t_0 = 0$ ، ثمانية (8) أنابيب اختبار مرقمة من 1 إلى 8، وندخل في كل أنبوب $n_1 = 0,10 \text{ mol}$ من الحمض الكربوكسيلي (A) و $n_2 = 0,10 \text{ mol}$ من المنثول وقطرات من حمض الكبريتيك المركز. نضع في نفس اللحظة كل الأنابيب داخل حمام مريم درجة حرارته مستقرة عند 70°C ونشغل الميقت. تمكن معايرة الحمض المتبقي في كل أنبوب تباعا على رأس مدد زمنية متتالية ومتساوية، من تحديد كمية مادة الإستر المتكون. نمذج تفاعل الأسترة الحاصل بين الحمض الكربوكسيلي (A) والمنثول بالمعادلة الكيميائية الآتية:



1.1. أعط مميزتي تفاعل الأسترة.

0,5

2.1. اعتمادا على صيغة الإستر، استنتج الصيغة نصف المنشورة للحمض الكربوكسيلي (A).

0,5

3.1. ما دور حمض الكبريتيك المضاف بدنيا إلى المجموعة الكيميائية؟

0,25

2. معايرة الحمض الكربوكسيلي (A) المتبقي في الأنبوب رقم 1

على رأس المدة الزمنية الأولى، نخرج الأنبوب رقم 1 من حمام مريم، ونغطسه في ماء مثلج، ثم نعاير الحمض المتبقي في المجموعة الكيميائية بواسطة محلول مائي لهيدروكسيد الصوديوم $\text{Na}^+_{(\text{aq})} + \text{HO}^-_{(\text{aq})}$ تركيزه المولي $C_B = 1,0 \text{ mol.L}^{-1}$ وبوجود كاشف ملون مناسب. الحجم المضاف عند التكافؤ هو $V_{B,E} = 68 \text{ mL}$.

1.2. أكتب المعادلة الكيميائية للتفاعل الحاصل أثناء المعايرة والذي نعتبره كليا.

0,5

2.2. بين أن كمية مادة الحمض المتبقي في الأنبوب رقم 1 هي $n_A = 6,8 \cdot 10^{-2} \text{ mol}$.

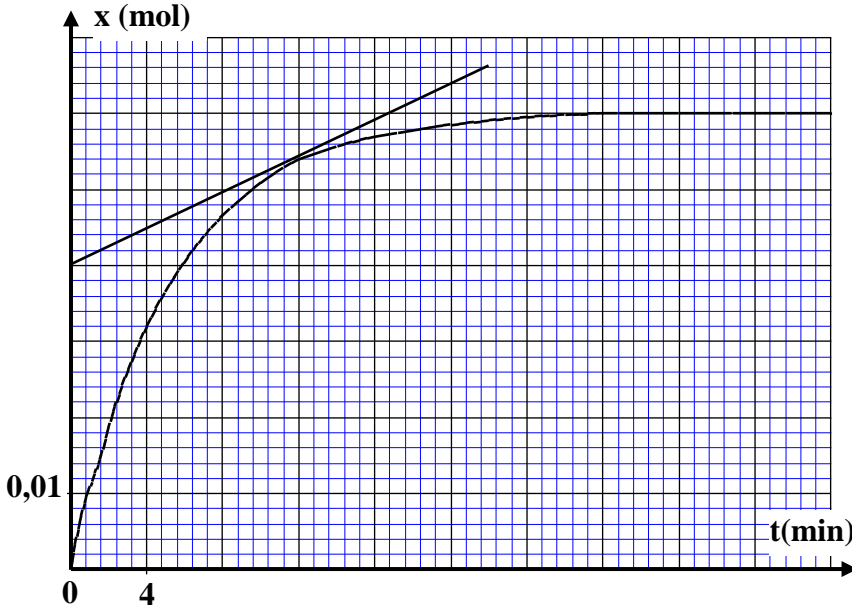
0,5

3.2. حدد قيمة كمية مادة إيثانوات المنثيل المتكون في الأنبوب رقم 1 (يمكن الاستعانة بالجدول الوصفي بالنسبة لتفاعل الأسترة المدروس).

0,75

3. تتبع التطور الزمني لكمية مادة إيثانوات المنثيل المصنع

مكنت معايرة الحمض المتبقي في باقي الأنابيب من خط منحنى تطور تقدم تفاعل الأسترة بدلالة الزمن (الشكل جانبه).



1.3 أحسب بالوحدة $(\text{mol.L}^{-1}.\text{min}^{-1})$

قيمة السرعة الحجمية للتفاعل عند

اللحظتين $t_1 = 12 \text{ min}$ و $t_2 = 32 \text{ min}$

علما أن حجم المجموعة الكيميائية هو

$V = 23 \text{ mL}$. فسر كيفيا تغير السرعة.

2.3 أذكر عاملا يمكن من الزيادة في

السرعة الحجمية للتفاعل دون تغيير

الحالة البدئية للمجموعة الكيميائية.

3.3 عین مبیانیا قيمة كل من:

أ. التقدم النهائي للتفاعل x_f ؛

ب. زمن نصف التفاعل $t_{1/2}$.

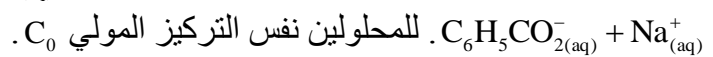
4.3 أحسب قيمة r مردود هذا

التصنيع.

الجزء 2: تفاعل مزدوجتين (قاعدة/حمض)

يهدف هذا الجزء إلى تحديد منحنى تطور مجموعة كيميائية.

نخلط نفس الحجم V_0 من محلول مائي لحمض الإيثانويك $\text{CH}_3\text{CO}_2\text{H}_{(\text{aq})}$ ومن محلول مائي لبنزوات الصوديوم



للمحلولين نفس التركيز المولي C_0 .

معطيات:

$$K_{A2} = K_A (\text{C}_6\text{H}_5\text{CO}_2\text{H}_{(\text{aq})} / \text{C}_6\text{H}_5\text{CO}_2^-_{(\text{aq})}) = 6,3 \cdot 10^{-5} ; K_{A1} = K_A (\text{CH}_3\text{CO}_2\text{H}_{(\text{aq})} / \text{CH}_3\text{CO}_2^-_{(\text{aq})}) = 1,8 \cdot 10^{-5}$$

1. أكتب معادلة التفاعل الحاصل بين حمض الإيثانويك وأيون البنزوات.

2. بين أن تعبير ثابتة التوازن K المقرونة بمعادلة هذا التفاعل هو $K = \frac{K_{A1}}{K_{A2}}$ ثم أحسب قيمتها.

3. قيمة خارج التفاعل للمجموعة الكيميائية في الحالة البدئية هي $Q_{r,i} = 1$. في أي منحنى تتطور المجموعة الكيميائية؟ علل جوابك.

الفيزياء (13 نقطة)

التمرين 1 (2,5 نقط): الموجات الضوئية

تعتبر ظاهرتا حيود وتبدد الضوء من الظواهر المهمة التي نصادفها في حياتنا اليومية، حيث تمكنان من تفسير طبيعة الضوء، وتقديم معلومات حول أوساط الانتشار، وتحديد بعض المقادير المميزة.

معطى: سرعة انتشار الضوء في الفراغ $c = 3 \cdot 10^8 \text{ m.s}^{-1}$

1. انتشار الضوء عبر موشور

1.1 يرد على موشور من زجاج، ضوء أحمر أحادي اللون طول موجته في الفراغ $\lambda_{0R} = 768 \text{ nm}$. معامل

الانكسار للزجاج بالنسبة لهذا الضوء هو $n_R = 1,618$.

بالنسبة للسؤالين المواليين، انقل على ورقة تحريرك رقم السؤال واكتب الحرف الموافق للاقتراح الصحيح من بين ما يلي:

1.1.1. التردد ν_R للضوء الأحمر هو: 0,5

أ	$\nu_R = 2,41.10^{14} \text{Hz}$	ب	$\nu_R = 3,91.10^{14} \text{Hz}$	ج	$\nu_R = 2,41.10^{16} \text{Hz}$	د	$\nu_R = 4,26.10^{16} \text{Hz}$
---	----------------------------------	---	----------------------------------	---	----------------------------------	---	----------------------------------

2.1.1. السرعة ν_R لانتشار الضوء الأحمر في الزجاج هي: 0,75

أ	$\nu_R = 1,20.10^8 \text{m.s}^{-1}$	ب	$\nu_R = 1,55.10^8 \text{m.s}^{-1}$	ج	$\nu_R = 1,85.10^8 \text{m.s}^{-1}$	د	$\nu_R = 1,90.10^8 \text{m.s}^{-1}$
---	-------------------------------------	---	-------------------------------------	---	-------------------------------------	---	-------------------------------------

2.1. عند ورود ضوء بنفسجي أحادي اللون، طول موجته في الفراغ $\lambda_{0V} = 434 \text{ nm}$ على نفس الموشور، تكون 0,5

سرعة انتشاره في الزجاج هي $\nu_V = 1,81.10^8 \text{m.s}^{-1}$.

بمقارنة ν_V و ν_R ، استنتج خاصية للزجاج.

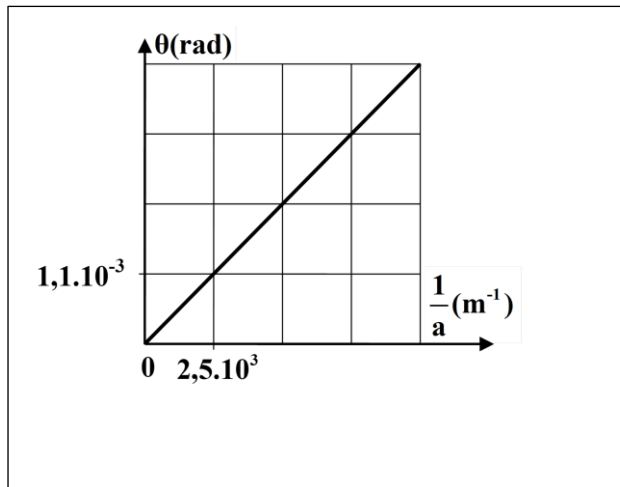
2. انتشار الضوء عبر شق 0,75

ننجز حيود الضوء باستعمال جهاز لآزر يعطي ضوءاً أحادي اللون طول موجته في الهواء λ . يجتاز هذا الضوء شفا عرضه a قابلاً للضبط، فنحصل على شكل للحيود على شاشة توجد على مسافة من الشق.

نقيس الفرق الزاوي θ بالنسبة لقيم مختلفة لعرض الشق a .

يعطي المنحنى جانبه تغيرات θ بدلالة $\left(\frac{1}{a}\right)$.

أنقل على ورقة تحريرك رقم السؤال واكتب الحرف الموافق للاقتراح الصحيح من بين ما يلي:



قيمة طول الموجة هي

أ	$\lambda = 400 \text{ nm}$	ب	$\lambda = 440 \text{ nm}$	ج	$\lambda = 680 \text{ nm}$	د	$\lambda = 725 \text{ nm}$
---	----------------------------	---	----------------------------	---	----------------------------	---	----------------------------

التمرين 2 (5 نقط): الدارة المتوالية RLC

تحتوي مجموعة من الدارات الكهربائية والإلكترونية على مكثفات ووشيعات ويختلف تصرف هذه الدارات حسب التأثير الذي تفرضه هذه المركبات. يهدف هذا التمرين إلى دراسة دارة متوالية RLC في حالات مختلفة.

ننجز التركيب التجريبي الممثل في الشكل 1 والمتكون من:

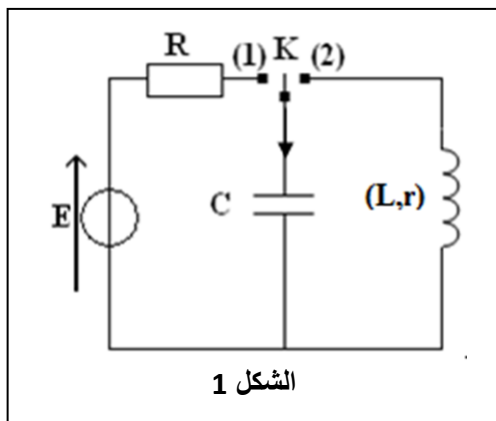
- مولد مؤتمل للتوتر قوته الكهرومحرمة $E = 6V$ ؛

- مكثف سعته C ؛

- موصل أومي مقاومته R ؛

- وشيعة b معامل تحريضها L ومقاومتها r ؛

- قاطع التيار K .



1. نضع قاطع التيار في الموضع (1)، فيشحن المكثف كلياً، فتكون قيمة 0,5

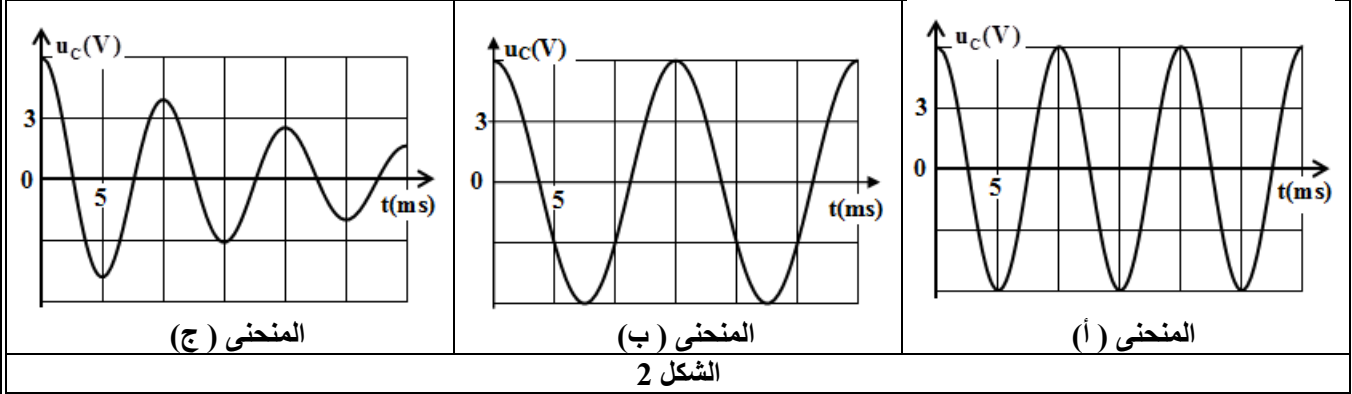
شحنه الأقصى هي $Q_{\max} = 1,32.10^{-4} \text{C}$.

أحسب قيمة $\mathcal{E}_{e,\max}$ الطاقة الكهربائية القصوى المخزونة في المكثف.

2. ننجز ثلاث تجارب باستعمال ثلاث وشيعات مختلفة b_1 و b_2 و b_3 ذات المميزات:

$$b_1(L_1 = 260\text{mH} ; r_1 = 0) \quad \text{و} \quad b_2(L_2 = 115\text{mH} ; r_2 = 0) \quad \text{و} \quad b_3(L_3 ; r_3 = 10 \Omega)$$

في كل تجربة نشحن المكثف كلياً ثم نفرغه في إحدى الوشيعات.
تمثل منحنيات الشكل 2 تغيرات التوتر $u_C(t)$ بين مربطي المكثف.



1.1. سمّ نظام التذبذبات الذي يبرزه كل من المنحني (أ) والمنحني (ج). **0,5**

2.2. بمقارنة أدوار التذبذبات الكهربائية، بين أن المنحني (أ) يوافق الوشيعة b_2 . **0,75**

3.2. تحقق أن $C \approx 2,2 \cdot 10^{-5} \text{F}$. **0,5**

3. نعتبر حالة تفريغ المكثف عبر الوشيعة $b_2(L_2 = 115\text{mH} ; r_2 = 0)$. في هذه الحالة تكون الدارة LC مثالية.

1.3. أثبت المعادلة التفاضلية التي يحققها التوتر $u_C(t)$. **0,75**

2.3. حل المعادلة التفاضلية يكتب: $u_C(t) = U_{\text{Cmax}} \cdot \cos\left(\frac{2\pi}{T_0} \cdot t + \varphi\right)$

1.2.3. أكتب التعبير العددي للتوتر $u_C(t)$. **0,75**

2.2.3. أحسب الطاقة الكلية للدارة LC علماً أنها تتحفظ. **0,5**

4. نعتبر حالة تفريغ المكثف عبر الوشيعة $b_3(L_3 ; r_3 = 10 \Omega)$.

لصيانة التذبذبات الكهربائية في الدارة، نضيف إليها مولداً يزود الدارة بتوتر يتناسب اطراداً مع شدة التيار

$u_g = k \cdot i(t)$ حيث k ثابتة موجبة. نحصل على تذبذبات كهربائية جيبية دورها $T = 10 \text{ms}$.

1.4. حدد قيمة k . **0,5**

2.4. استنتج قيمة L_3 . **0,25**

التمرين 3 (5,5 نقط): حركة جسم صلب

تتعدد أنواع الحركات التي تخضع لها المجموعات الميكانيكية حسب التأثيرات المطبقة عليها، حيث تمكن قوانين نيوتن من دراسة تطور هذه المجموعات.

يهدف هذا التمرين إلى دراسة نوعين من هذه الحركات، وتحديد بعض المقادير المميزة لها.

1. دراسة حركة جسم صلب على مستوى أفقي

ينزلق جسم صلب (S)، مركز قصوره G وكتلته $m = 0,4 \text{kg}$ ، باحتكاك فوق مستوى أفقي OAB. نمذج

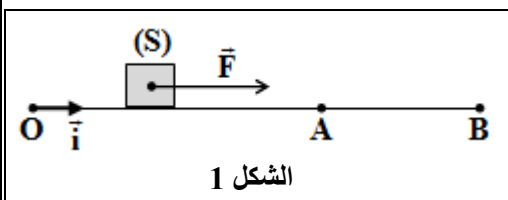
الاحتكاكات بقوة \vec{F} ثابتة، اتجاهها موازي للمسار ومنحاهها معاكس لمنحى الحركة.

لدراسة حركة (S) نختار معلماً (O, \vec{i}) مرتبطاً بالأرض نعتبره

غاليلياً.

1.1. يخضع الجسم (S) خلال حركته بين O و A لقوة محرّكة \vec{F}

ثابتة أفقية منحاهها هو منحى الحركة (الشكل 1).



1.1.1 نعتبر لحظة انطلاق (S) من O، بدون سرعة بدئية، أصلا للتواريخ $(t_0 = 0)$.
بتطبيق القانون الثاني لنيوتن، أثبت أن المعادلة التفاضلية التي يحققها x أفصول G في المعلم (O, \vec{i}) هي:

$$\frac{d^2x}{dt^2} = \frac{F-f}{m}$$

2.1.1 يمر الجسم (S) من A عند اللحظة $t_A = 2 \text{ s}$ بالسرعة $v_A = 5 \text{ m.s}^{-1}$.
أوجد قيمة التسارع a_1 لحركة G بين O و A.

2.1 ينعدم تأثير القوة \vec{F} عند مرور الجسم (S) من A، فيواصل حركته ويتوقف في B.
نختار لحظة مرور (S) من A أصلا جديدا للتواريخ $(t_0 = 0)$.

يتوقف (S) في B عند اللحظة $t_B = 2,5 \text{ s}$.

1.2.1 بين أن القيمة الجبرية للتسارع بين A و B هي $a_2 = -2 \text{ m.s}^{-2}$.

2.2.1 استنتج شدة قوة الاحتكاك \vec{f} .

3.1 باعتماد النتائج المحصلة، أحسب شدة القوة المحركة \vec{F} .

2. دراسة حركة متذبذب

نثبت الجسم (S) السابق، ذي الكتلة $m = 0,4 \text{ kg}$ ، بنابض أفقي لفاته غير متصلة وكتلته مهملة وصلابته K (الشكل 2).

نزيح الجسم (S) بالمسافة X_m عن موضع توازنه، ثم نحرره بدون سرعة. نعلم موضع مركز القصور G بالأفصول x على المحور (O, \vec{i}) ونختار لحظة مرور G من موضع التوازن، بسرعة v_0 ، في

المنحنى الموجب أصلا للتواريخ $(t_0 = 0)$.

يمثل الشكل 3 منحنى تغيرات الأفصول $x(t)$ لمركز

القصور G.

1.2 عين مبيانيا قيمة كل من الدور الخاص T_0 ووسع

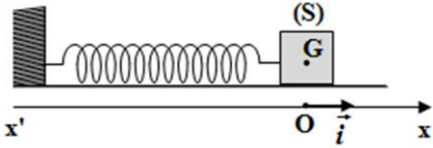
الحركة X_m ، ثم أوجد قيمة الصلابة K (نأخذ $\pi^2 = 10$).

2.2 أحسب قيمة شغل قوة الارتداد المطبقة على (S) بين

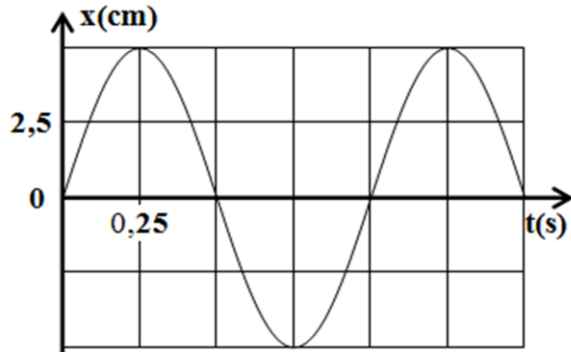
اللحظتين $(t_0 = 0)$ و $(t_1 = \frac{T_0}{4})$.

3.2 باستغلالك لانحفاظ الطاقة الميكانيكية للمتذبذب، أوجد

قيمة السرعة v_0 عند اللحظة $(t_0 = 0)$.



الشكل 2



الشكل 3

تصحيح الامتحان الوطني الدورة العادية 2017
مسلك علوم الحياة و الأرض و العلوم الزراعية

الكيمياء (7نقط)

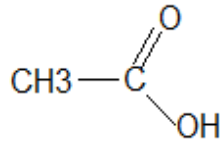
الجزء الأول : تصنيع النعناع (إيثانوات المنثيل)

1- تصنيع إيثانوات المنثيل في المختبر

1.1- مميّزتي تفاعل الأسترة :

تفاعل الأسترة بطيء و محدود.

2.1- الصيغة نصف المنشورة للحمض الكربوكسيل (A) :

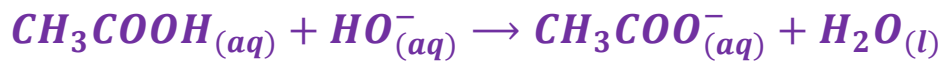


3.1- يؤدي حمض الكبريتيك دور :

حزاز ، فهو يمكن من زيادة سرعة التفاعل.

2- معايرة الحمض الكربوكسيل (A) المتبقي

1.2- معادلة تفاعل المعايرة :



2.2- إثبات قيمة n_A :

عند التكافؤ لدينا : $n_A = n_{\text{مضافة}}(\text{HO}^-)$ مع : $n_A = C_B \cdot V_{BE}$ $n_{\text{مضافة}}(\text{HO}^-)$

$$n_A = C_B \cdot V_{BE} \quad \text{ومنه :}$$

$$n_A = 1,0 \times 68 \times 10^{-3} = 6,8 \cdot 10^{-2} \text{ mol} \quad \text{ت.ع. :}$$

3.2- قيمة كمية مادة الإستر المتكون في الأنبوب 1 :

الجدول الوصفي :

معادلة التفاعل		$RCOOH_{(l)} + C_{10}H_{19}OH_{(l)} \rightleftharpoons CH_3COOC_{10}H_{19} (l) + H_2O_{(l)}$			
حالة المجموعة	التقدم	كميات المادة ب mol			
الحالة البدئية	0	n_1	n_2	0	0
خلال التحول	x	$n_1 - x$	$n_2 - x$	x	x
الحالة النهائية	x_f	$n_1 - x_f$	$n_2 - x_f$	x_f	x_f

حسب الجدول الوصفي :

كمية مادة الحمض المتبقي هي : $n_A = n_1 - x$ أي : $x = n_1 - n_A$

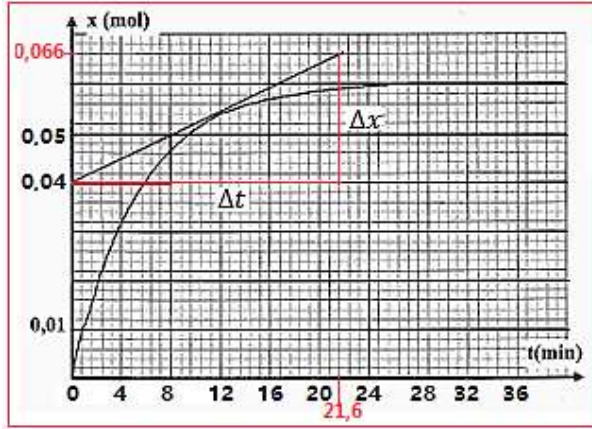
كمية مادة إيثانوات المنثيل المتكون هي : $n(E) = x$

$$n(E) = n_1 - n_A$$

$$n(E) = 0,1 - 6,8 \cdot 10^{-2} = 3,2 \cdot 10^{-2} \text{ mol} \quad \text{ت.ع. :}$$

3- تتبع التطور الزمني لكمية مادة الإستر المصنع :

1.3- حساب السرعة الحجمية عند اللحظة $t_1 = 12 \text{ min}$ و عند $t_2 = 32 \text{ min}$:



حسب تعريف السرعة الحجمية :

$$v(t) = \frac{1}{V} \cdot \frac{dx}{dt}$$

عند اللحظة $t_1 = 12 \text{ min}$:

$$\begin{aligned} v(t_1) &= \frac{1}{V} \cdot \left(\frac{\Delta x}{\Delta t} \right)_{t_1} \\ &= \frac{1}{23 \times 10^{-3}} \times \left(\frac{0,05 - 0,04}{8 - 0} \right)_{t_1} \end{aligned}$$

$$v(t_1) = 5,43 \cdot 10^{-2} \text{ mol} \cdot \text{L}^{-1} \cdot \text{min}^{-1}$$

عند اللحظة $t_2 = 32 \text{ min}$:

عند هذه اللحظة مماس المنحنى عبارة عن مستقيم أفقي إذن المعامل الموجه يكون منعدم وبالتالي تكون السرعة منعدمة :

$$v(t_2) = 0$$

يفسر تناقص السرعة الحجمية بتناقص تراكيز المتفاعلات.

2.3- العامل الذي يمكن من الزيادة في السرعة الحجمية دون تغيير الحالة البدئية للمجموعة هو :

الرفع من درجة الحرارة .

3.3- التعيين المبياني ل :

أ- التقدم النهائي x_f :

$$x_f = 6.10^{-2} \text{ mol} \text{ نجد}$$

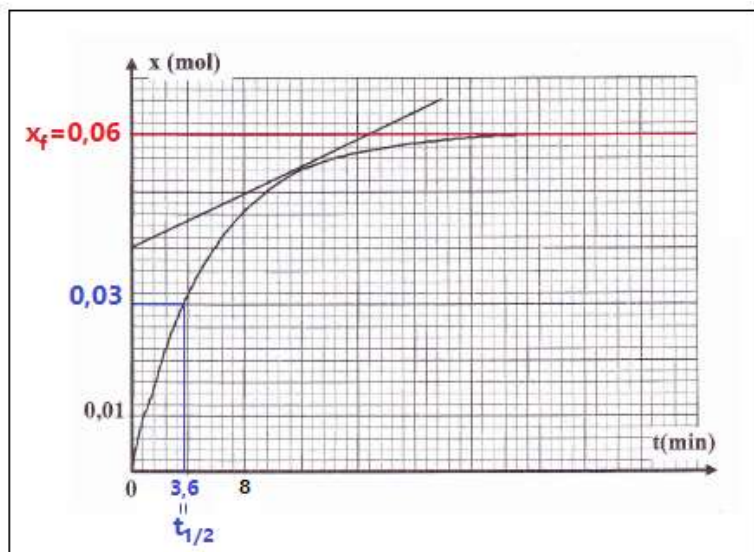
ب- زمن نصف التفاعل $t_{1/2}$:

عند اللحظة $t_{1/2}$ يكون :

$$x(t_{1/2}) = \frac{x_f}{2} = \frac{0,06}{2} = 0,03 \text{ min}$$

$$t_{1/2} = 3,6 \text{ min} \text{ بالإسقاط نجد}$$

4.3- قيمة مردود التصنيع :



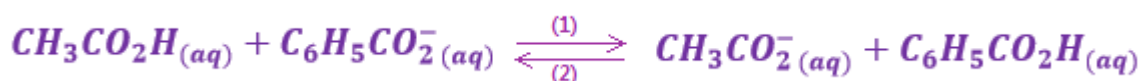
$$r = \frac{n_{exp}}{n_{th}} = \frac{x_f}{x_{max}}$$

حسب الجدول الوصفي $x_{max} = n_1 = 0,1 \text{ mol}$

$$r = \frac{0,06}{0,1} = 0,6 \Rightarrow r = 60\%$$

الجزء الثاني : تفاعل مزدوجتين (قاعدة / حمض)

1- معادلة التفاعل بين حمض الإيثانويك وأيون البنزوات :



2- إثبات تعبير ثابتة التوازن K :

لدينا :

$$K = \frac{[CH_3CO_2^-]_{eq} \cdot [C_6H_5CO_2H]_{eq}}{[CH_3CO_2H]_{eq} \cdot [C_6H_5CO_2^-]_{eq}}$$

$$K_{A2} = \frac{[C_6H_5CO_2^-]_{eq} [H_3O^+]_{eq}}{[C_6H_5CO_2H]_{eq}} \text{ و } K_{A1} = \frac{[CH_3CO_2^-]_{eq} [H_3O^+]_{eq}}{[CH_3CO_2H]_{eq}}$$

نعلم ان :

$$K = \frac{[CH_3CO_2^-]_{eq} \cdot [H_3O^+]_{eq}}{[CH_3CO_2H]_{eq}} \cdot \frac{[C_6H_5CO_2H]_{eq}}{[C_6H_5CO_2^-]_{eq} [H_3O^+]_{eq}} = K_{A1} \cdot \frac{1}{K_{A2}}$$

$$K = \frac{K_{A1}}{K_{A2}}$$

$$K = \frac{1,8 \cdot 10^{-5}}{6,3 \cdot 10^{-5}} = 0,29 \quad \text{حساب } K :$$

3- منحى تطور المجموعة الكيميائية :

بما ان $Q_{r,i} = 1$ أي : $Q_{r,i} > K$ ، حسب معيار التطور التلقائي ، فإن المجموعة الكيميائية تتطور في المنحى غير المباشر (2) لمعادلة التفاعل .

الفيزياء (13 نقطة)

التمرين الأول (2,5 نقطة)

1- انتشار الضوء عبر مشور

-1.1

1.1.1- التردد ν_R للضوء الأحمر هو ب :

$$\text{لدينا : } c = \lambda_{0R} \cdot \nu_R \text{ أي : } \nu_R = \frac{c}{\lambda_{0R}} \text{ ت.ع. : } \nu_R = \frac{3 \cdot 10^8}{768 \cdot 10^{-9}} = 3,91 \cdot 10^{14} \text{ Hz}$$

2.1.1- سرعة انتشار الضوء الأحمر ν_R في الزجاج هي ج :

$$\text{لدينا : } n_R = \frac{c}{\nu_R} \text{ أي : } \nu_R = \frac{c}{n_R} \text{ ت.ع. : } \nu_R = \frac{3 \cdot 10^8}{1,618} = 1,85 \cdot 10^8 \text{ m.s}^{-1}$$

2.1- خاصية الزجاج :

الزجاج وسط مبدد ، لأن سرعة الإنتشار تتعلق بالتردد.

2- انتشار الضوء عبر شق

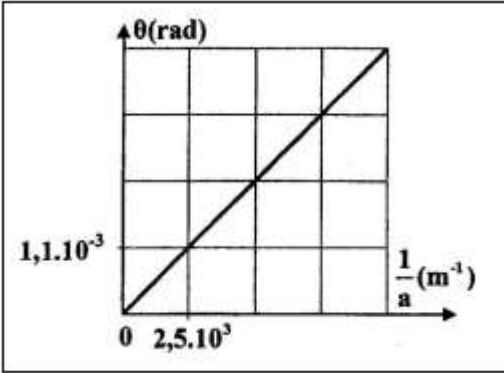
قيمة طور الموجة هي ب :

منحنى تغيرات θ بدلالة $\frac{1}{a}$ عبارة عن دالة خطية معادلتها تكتب :

$$\lambda = \frac{\Delta\theta}{\Delta\left(\frac{1}{a}\right)} = \frac{1,1 \cdot 10^{-3} - 0}{2,5 \cdot 10^3 - 0} : \text{ حيث } \theta = \lambda \cdot \frac{1}{a}$$

$$\lambda = 4,4 \cdot 10^{-7} \text{ m} = 440 \cdot 10^{-9} \text{ m}$$

$$\lambda = 440 \text{ nm}$$



التمرين الثاني (5 نقط)

1- الطاقة الكهربائية القصوى $\xi_{e,max}$ المخزونة في المكثف :

$$\xi_{e,max} = \frac{1}{2} C \cdot U_{C,max}^2 = \frac{1}{2} \cdot C \cdot U_{C,max} \cdot U_{C,max}$$

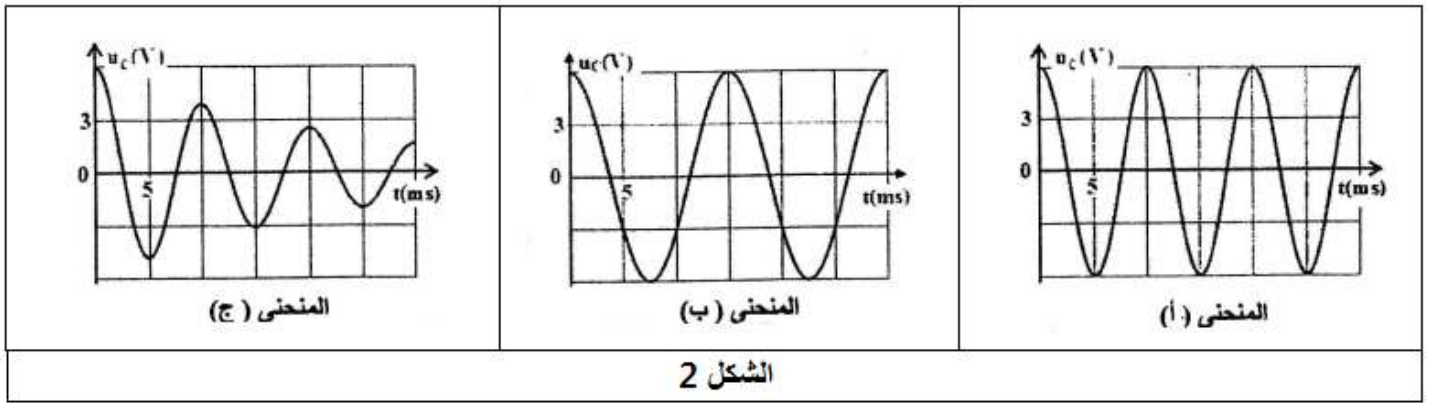
مع :

$$\begin{cases} U_{C,max} = E \\ Q_{max} = C \cdot U_{C,max} \end{cases} \Rightarrow \xi_{e,max} = \frac{1}{2} \cdot C \cdot U_{C,max} \cdot U_{C,max} \Rightarrow \xi_{e,max} = \frac{1}{2} \cdot Q_{max} \cdot E$$

$$\xi_{e,max} = \frac{1}{2} \times 1,32 \cdot 10^{-4} \times 6 = 3,96 \cdot 10^{-4} \text{ J}$$

ت.ع :

-2



1.2- تسمية نظام التذبذبات الذي يبرزه المنحنى (أ) و (ج) :

المنحنى (أ) ← نظام دوري

المنحنى (ج) ← نظام شبه دوري

2.2- إثبات ان المنحنى (أ) يوافق الوشيعة b_2 :

الوشيعتين b_1 و b_2 مقاومتهما منعدمة ($r = 0$) إذن فنظامهما دوري .

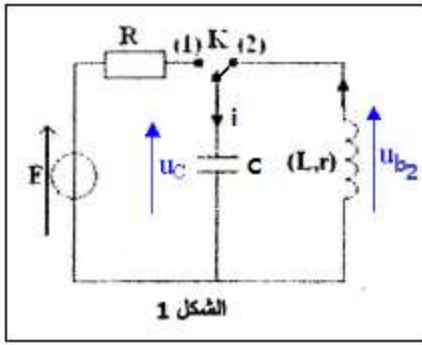
من خلال تعبير الدور الخاص للتذبذبات هو $T_0 = 2\pi\sqrt{L.C}$ ، يتبين ان كلما كانت قيمة L كبيرة كلما ازدادت قيمة الدور الخاص.

بما ان $L_1 = 260 \text{ mH} > L_2 = 115 \text{ mH}$ فإن $T_{01} > T_{02}$ و بالتالي المنحنى (أ) يوافق الوشيعة b_2 .

3.2- التحقق من قيمة C :

$$\text{لدينا: } T = 2\pi\sqrt{L_2.C} \quad \text{أي: } T^2 = 4\pi^2.L_2.C \quad \text{ومنه: } C = \frac{T^2}{4\pi^2.L_2}$$

$$C = \frac{(10.10^{-3})^2}{4 \times 10 \times 115.10^{-3}} \Rightarrow C = 2,2.10^{-5} \text{ F} \quad \text{ت.ع:}$$



1.3- إثبات المعادلة التفاضلية التي يحققها التوتر $u_C(t)$:

حسب قانون إضافية التوترات : $u_{b_2} + u_C = 0$

$$u_{b_2} = L_2 \cdot \frac{di}{dt}$$

$$i = \frac{dq}{dt} = C \cdot \frac{du_C}{dt} \Rightarrow \frac{di}{dt} = \frac{d}{dt} \left(C \cdot \frac{du_C}{dt} \right) = C \cdot \frac{d^2 u_C}{dt^2}$$

$$L_2 \cdot C \cdot \frac{d^2 u_C}{dt^2} + u_C = 0 \Rightarrow \frac{d^2 u_C}{dt^2} + \frac{1}{L_2 \cdot C} \cdot u_C = 0$$

2.3- حل المعادلة التفاضلية يكتب : $u_C(t) = U_{Cmax} \cdot \cos\left(\frac{2\pi}{T_0} \cdot t + \varphi\right)$

1.2.3- التعبير العددي للتوتر $u_C(t)$:

باستعمال المنحنى (أ) نحصل على :

$$T_0 = 10 \text{ ms} \text{ و } U_{Cmax} = 6 \text{ V}$$

تحديد φ :

$$\begin{cases} u_C(0) = U_{Cmax} \\ u_C(0) = U_{Cmax} \cdot \cos \varphi \end{cases} \Rightarrow U_{Cmax} \cdot \cos \varphi = U_{Cmax} \\ \Rightarrow \cos \varphi = 1$$

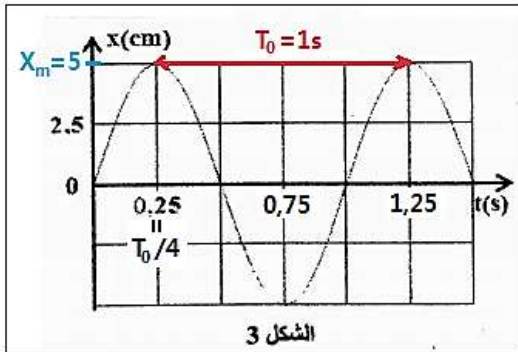
$$\varphi = 0$$

نعوض في الحل :

$$u_C(t) = 6 \cos\left(\frac{2\pi}{10^{-2}} \cdot t\right)$$

$$u_C(t) = 6 \cos(200\pi \cdot t)$$

2.2.3- حساب الطاقة الكلية للدارة LC :

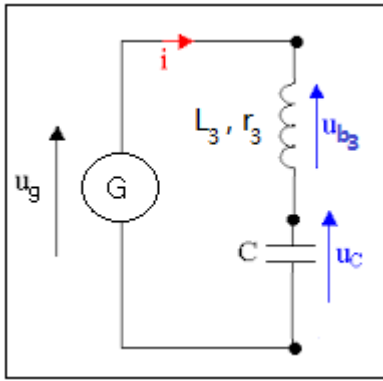


$$E_T = E_e + E_m \quad \text{: لدينا}$$

$$E_T = E_{e \max} = \frac{1}{2} C \cdot U_{C \max}^2 \quad \text{: عند اللحظة } t = 0 \text{ الطاقة الكلية تكتب}$$

$$E_T = \frac{1}{2} \times 2,2 \times 10^{-5} \times 6^2 = 3,96 \cdot 10^{-4} J \quad \text{: ت.ع}$$

-4



1.4- تحديد قيمة k :

حسب قانون إضافية التوترات :

$$u_{b_3} + u_c = u_g \Rightarrow L_3 \cdot \frac{di}{dt} + r_3 \cdot i(t) + u_c = k \cdot i(t)$$

$$L_3 \cdot \frac{di}{dt} + (r_3 - k) \cdot i(t) + u_c = 0$$

$$L_3 \cdot C \cdot \frac{d^2 u_c}{dt^2} + (r_3 - k) \cdot C \cdot \frac{du_c}{dt} + u_c = 0 \Rightarrow \frac{d^2 u_c}{dt^2} + \frac{(r_3 - k)}{L_3} \cdot \frac{du_c}{dt} + \frac{1}{L_3 \cdot C} \cdot u_c = 0$$

لكي نحصل على تذبذبات كهربائية جيبية يجب ان يكون $\frac{(r_3 - k)}{L_3} = 0$ أي $r_3 - k = 0$ ومنه :

$$k = r_3 = 10 \Omega$$

2.4- استنتاج قيمة L_3 :

لدينا : $T_3 = T_1 = T$ و بما ان :

$$\begin{cases} T_1 = 2\pi\sqrt{L_1 \cdot C} \\ T_3 = 2\pi\sqrt{L_3 \cdot C} \end{cases} \Rightarrow \sqrt{L_3 \cdot C} = \sqrt{L_1 \cdot C} \Rightarrow L_3 = L_1 = 115 \text{ mH}$$

ملحوظة : يمكن استعمال تعبير الدور الخاص للتذبذبات الجيبية :

$$L_3 = \frac{T_{01}^2}{4\pi^2 \cdot C} \quad \text{ومنه } T^2 = 4\pi^2 \cdot L_3 \cdot C \quad \text{أي } T = 2\pi\sqrt{L_3 \cdot C}$$

$$L_3 = \frac{(10 \cdot 10^{-3})^2}{4 \cdot \pi^2 \times 2,2 \cdot 10^{-5}} = 0,115 H \Rightarrow L_3 = 115 mH$$

ت.ع :

التمرين الثالث (5,5 نقط)

1- دراسة جسم على مستوى أفقي

-1.1

1.1.1- إثبات المعادلة التفاضلية التي يحققها مركز

قصور الجسم :

المجموعة المدروسة : { الجسم الصلب (S) }

جرد القوى :

\vec{P} : وزن الجسم

\vec{F} : تأثير القوة المحركة الأفقية

\vec{R} : تأثير المستوى الأفقي (ن فكك القوة \vec{R} إلى مركبتين : $\vec{R} = \vec{R}_N + \vec{f}$

نطبق القانون الثاني لنيوتن في المعلم (O, \vec{i}) المرتبط بالارض و الذي نعتبره غاليليا :

$$\vec{P} + \vec{F} + \vec{R}_N + \vec{f} = m \cdot \vec{a}_G$$

الإسقاط على المحور Ox :

$$0 + F - f + 0 = m \cdot a_x \Rightarrow a_x = \frac{F - f}{m}$$

$$\frac{d^2 x}{dt^2} = \frac{F - f}{m}$$

2.1.1- حساب a_1 :

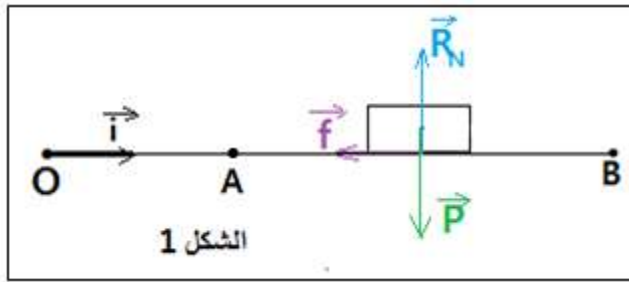
بما ان التسارع ثابت ($a_1 = cte$) فإن معادلة السرعة تكتب : $v(t) = a_1 \cdot t + v_0$ مع $v_0 = 0$

عند الموضع A معادلة السرعة تكتب : $v_A = a_1 \cdot t_A$

$$a_1 = \frac{v_A}{t_A} \quad \text{ومنه :}$$

$$a_1 = \frac{5}{2} = 2,5 \text{ m.s}^{-2} \quad \text{ت.ع.}$$

1.2.1- إثبات قيمة التسارع :



ينعدم تأثير القوة المحركة F بين A و B ، حسب

تعبير التسارع : $a_2 = \frac{F-f}{m}$ مع $F = 0$ نستنتج :

$$a_2 = -\frac{f}{m}$$

معادلة السرعة خلال المرحلة الثانية تكتب : $v(t) = a_2 \cdot t + v_0$ مع $v_0 = v_A$ أي $v(t) = a_2 \cdot t + v_A$

عند الموضع B معادلة السرعة تكتب : $v_B = a_2 \cdot t_B + v_A$ مع $v_B = 0$ (الجسم يتوقف)

$$a_2 \cdot t_B + v_A = 0$$

$$a_2 = -\frac{v_A}{t_B}$$

$$a_2 = -\frac{5}{2,5} = -2 \text{ m.s}^{-2}$$

2.2.1- استنتاج قيمة f :

$$a_2 = -\frac{f}{m} \quad \text{ومنه :} \quad f = -m \cdot a_2 \quad \text{ت.ع.} \quad f = -0,4 \times (-2) = 0,8 \text{ N}$$

3.1- حساب شدة القوة المحركة F :

لدينا حسب السؤال 1.1.1- تعبير التسارع : $a_1 = \frac{F-f}{m}$ أي $F - f = m \cdot a_1$

$$F = m \cdot a_1 + f$$

ومنه :

$$F = 0,4 \times 2,5 + 0,8 = 1,8 \text{ N}$$

ت.ع :

2- دراسة حركة متذبذب

1.2- التعيين المبياني لكل من T_0 و X_m :

حسب مبيان الشكل 3 نجد :

$$T_0 = 1 \text{ s} \quad \text{: الدور الخاص}$$

$$X_m = 5 \text{ cm} \quad \text{: وسع الحركة}$$

حساب صلابة النابض K :

حسب تعبير الدور الخاص :

$$T_0 = 2\pi \sqrt{\frac{m}{K}} \Rightarrow T_0^2 = 4\pi^2 \cdot \frac{m}{K}$$

$$K = 4\pi^2 \cdot \frac{m}{T_0^2}$$

$$K = 4 \times 10 \times \frac{0,4}{1^2} = 16 \text{ N} \cdot \text{m}^{-1}$$

ت.ع :

2.2- حساب شغل قوة الارتداد بين اللحظتين $t_0 = 0$ و $t_1 = \frac{T_0}{4}$:

$$W_{t_0 \rightarrow t_1}(\vec{F}) = -\Delta E_{pe}$$

$$W_{t_0 \rightarrow t_1}(\vec{F}) = -\left(E_{pe}\left(\frac{T_0}{4}\right) - E_{pe}(0)\right)$$

$$W_{t_0 \rightarrow t_1}(\vec{F}) = E_{pe}(0) - E_{pe}\left(\frac{T_0}{4}\right)$$

عند اللحظة $t_0 = 0$ لدينا حسب المبيان $x = f(t)$ و $x(0) = 0$ و بالتالي $E_{pe}(0) = 0$

و عند اللحظة $t_1 = \frac{T_0}{4}$ لدينا $x\left(\frac{T_0}{4}\right) = x(0,25s) = X_m = 5.10^{-2} m$ و $E_{pe}\left(\frac{T_0}{4}\right) = \frac{1}{2}K.X_m^2$

$$E_{pe}\left(\frac{T_0}{4}\right) = \frac{1}{2} \times 16 \times (5.10^{-2})^2 = 0,02 J$$

$$W_{t_0 \rightarrow t_1}(\vec{F}) = 0 - 0,02 = -2.10^{-2} J$$

3.2- حساب قيمة v_0 :

بما ان الطاقة الميكانيكية تنحفظ نكتب :

$$E_m = E_c + E_{pe}$$

$$E_m = E_{cmax} = E_{pe max}$$

$$\frac{1}{2}m v_{max}^2 = \frac{1}{2}K.X_m^2$$

$$v_0^2 = \frac{K}{m}.X_m^2$$

مع $v_0 = v_{max}$

$$v_0 = X_m \cdot \sqrt{\frac{K}{m}}$$

$$v_0 = 5.10^{-2} \times \sqrt{\frac{16}{0,4}} = 0,316$$

ت.ع :

$$v_0 \approx 0,32 m.s^{-1}$$