

اسمي:

مدرستي:

1ن

1- أرتب مراحل نمو الأوزة باستعمال الأرقام: 1- 2- 3- 4.



2ن

2- أعتبر عن كل صورة بكتابة الكلمة المناسبة: تلد- تبيض



1ن

3- أربط كل حيوان بنمط غذائه:



عاشب

لاحم










اسمي:



مدرستي:

1,5ن

4 - أَحَدِدْ وَسَطَ تَنْقَلِ الْحَيَوَانَ وَ أَكْتُبْ نَوْعَ تَنْقَلِهِ:

				
				
				
			يَطِيرُ	

2ن

5 - أَكْتُبْ نَوْعَ الْقُوَّةِ : كَهْرَبَانِيَّةٌ - رِيحِيَّةٌ - مِيكَانِيكِيَّةٌ - عَضَلِيَّةٌ

			
.....

2,5ن

6 - أَمَلْ أَلْفَرَاعَ بِمَا يُنَاسِبُ :

الأعلى - ألقواطع - المنقار - قوّة - الأنياب.

- يُمَسِكُ الْحَيَوَانَ أَلَلَحِمَّ غِذَاءَهُ بِـ
- يُمَسِكُ الْحَيَوَانَ أَلْعَاشِبُ غِذَاءَهُ بِـ
- تَحْرِيكُ جِسْمٍ نَحْوَ يَتَطَلَّبُ