

مراقبة 4 في النشاط العلمي

النقطة

.....

المؤسسة :

اسمي :



1ن

1- أرتب مراحل نمو الإوزة بأستعمال الأرقام: 1- 2- 3- 4.




2ن

2- أعبّر عن كل صورة بكتابة الكلمة المناسبة : تلد - تبيض



1ن

3 - أربط كل حيوان بنمط غذائه :



عاشب

لاحم

مراقبة 4 في النشاط العلمي

النقطة

.....








المؤسسة :

اسمي :



ن2

4 - أَحَدٌ وَسَطٌ تَنْقَلِ الْحَيَوَانَ وَ أَكْتُبْ نَوْعَ تَنْقَلِهِ:

ن2

5 - أَكْتُبْ نَوْعَ الْقُوَّةِ : كَهْرَبَائِيَّةَ - رِيحِيَّةَ - مِيكَانِيكِيَّةَ - عَضَلِيَّةَ

			
.....

ن2

6 - أَمَلِّ الْفَرَاغَ بِمَا يُنَاسِبُ :

الأعلى - القواطع - المنقار - قوة - الأنياب.

- يُمَسِكُ الْحَيَوَانَ اللَّاحِمَ غِذَاءَهُ بِ..... أَوْ.....
- يُمَسِكُ الْحَيَوَانَ الْعَاشِبُ غِذَاءَهُ بِ.....
- تَحْرِيكُ جِسْمِ نَحْوِ..... يَتَطَلَّبُ.....