

النقطة المحصل عليها :

..... /20

..... /10

(2 نقتص)

1. أملأ الفراغات بما يناسب:

الْجِنْسِيَّة - عِلَامَات - التَّمْيِيز - أَجْسَامِهَا

يُمْكِنُ يَبْنُ ذُكُورٍ وَإِنَاثٍ بَعْضِ الْحَيَوَانَاتِ بِمُلاحَظَةِ تَظْهَرُ عَلَيَّ وَتُسَمَّى بِالصِّفَاتِ




(4 نقتص)

2. أملأ البطاقات بكتابة: "بيوض" أو "ولود".



(1 نقتص)

3. أرتب مراحل دورة حياة الفراشة بوضع الأرقام من 1 إلى 4:



(1 نقتص)

4. تَكَاثَرَ النَبَاتَاتِ عِبْرَ مَجْمُوعَةٍ مِنَ الطَّرِيقِ مِنَ بَيْنِهَا (أَلْوَنُ فَاتَةِ الْجَوَابِ أَوْ الْأَجُوبَةِ الصَّحِيحَةِ):

الْجَنِّي

الْبُنُورُ

الْأَفْتِسَالُ

الْتَّرْبَةُ

(5, 1 نقتص)

5. أملأ الفراغات بما يناسب:

أَجْزَائِهَا - تَتَكَاثَرُ - بُدُورِهَا

يُمْكِنُ لِلنَّبَاتَاتِ أَنْ دُونَ زَرْعِ وَتَتَكَاثَرُ النَّبَاتَاتُ بِوَأَسِطَةِ غَرَسِ بَعْضِ

6. ماهي مكونات سطح الأرض:

(0,5 نقطة)

(1 نقطة)

7. ما هما العنصرين اللذين تترود بهما الشمس الأرض:

(1 نقطة)

8. ماهي العناصر التي تغير القارات على سطح الأرض (ألون فانة الجواب أو الأجابة الصحيحة):

الرياح

الزلازل

المياه

التربة

9. ألاحظ الصورة أسفله وأتمم:

(2 نقطة)

أتمم أسماء كواكب المجموعة الشمسية.



(0,5 نقطة)

عدد كواكب المجموعة الشمسية هو:

(1 نقطة)

أصغر وأكبر كواكب المجموعة الشمسية هو:

(1 نقطة)

أبعد وأقرب كواكب المجموعة الشمسية هو:

(0,5 نقطة)

الكوكب الذي نعيش فيه هو:

(3 نقطة)

10. أجب بـ "صحيح" أو "خطأ" أمام كل عبارة من العبارات التالية:

العبارة	الجواب
تدور الأرض دورة كاملة حول الشمس خلال سنة واحدة.
تدور الشمس دورة كاملة حول الأرض خلال سنة واحدة.
تزداد النشرة الجوية الإنسان بمعلومات عن حالة الطقس.
النشرة الجوية لا تلعب دوراً مهماً في حياة الإنسان اليومية.
نسبة اليابسة على سطح الأرض أكبر من نسبة الماء.
الأرض مصدر الضوء لكواكب المجموعة الشمسية.