



1- أصل بخط بين الحيوان وطبيعته هل هو بيوض أم ولود: (2ن)

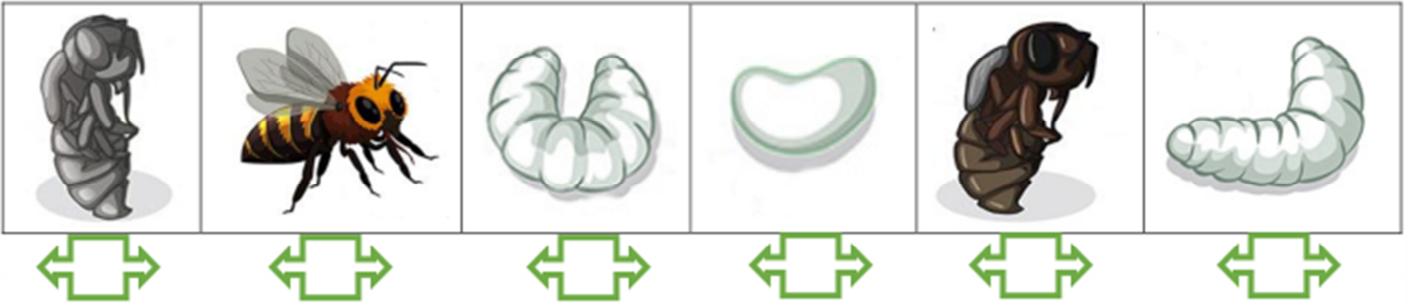


حيوان ولود

حيوان بيوض

2- ماهو ذكر الحيوان الممثل على الصورة 2 والصورة 3؟ (1ن)

3-Je classe les étapes du cycle de vie d'une Abeille: (3pts)



4- أتم دورة حياة شجرة: (1ن)



5- ألون البطاقة الصحيحة: (1.5ن)

-يمكن أن تتكاثر النباتات:

بدون سقيها

من خلال غرس بعض أجزائها

دون زرع بذورها

6- كيف تنتقل الصفات الوراثية من شجرة أم إلى نريتها؟ (1.5ن)