

اليوم : .....

اسمي : .....

4 أضع علامة (x) تحت ما يضرُّ بِأَسْنَانِي

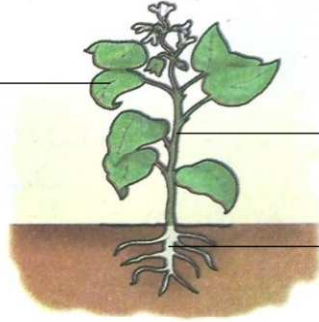









5 أكتب أسماء الأجزاء الرئيسية لتبته الفاصوليا:






6 أحدد الجزء الذي يؤكل في كل تبته: أوراق - جذر - ساق - ثمار










7 أكتب صحيح أو خطأ


← القمح نبات مزروع.

← شقائق الثعمان نبات تلقائي.

← الشجر نبات مزروع.

1 أحدد موقع كل مفصل:

- مرفق
- كتف
- ورك



• كوع

• كاحل

• ركبة

2 أحدد نوع كل حركة: بسط - ثني - دوران

حركة



حركة

العضو الذي يساعد على القيام بهذه الحركات هو

3 أكتب اسم كل سن ثم أصل بخط لأحدد دورها:





•

تقطيع الطعام



•

تمزيق الطعام



•

طحن الطعام

8 أَمَلًا الْفَرَاغَ بِالْكَلِمَةِ الْمُنَاسِبَةِ:

قَوَائِمٌ - زَعَانِفٌ - الْفُرُوجُ - الْحَرَاشِفُ

لِلسَّمَكَةِ شَكْلٌ إِنْسِيَابِيٌّ وَ..... تُسَاعِدُهَا عَلَى الْعَوْمِ وَجِسْمُهَا مَكْسُوبٌ.....

9 أَمَلًا الْفَرَاغَ بِالْكَلِمَةِ الْمُنَاسِبَةِ مِمَّا يَلِي:

الْقَوَائِمُ - جِسْمُهَا - قَوَائِمِهَا

تَتَنَقَّلُ الْحَيَوَانَاتُ الزَّاحِفَةُ ذَاتُ..... كَالزَّرْعَةِ، بِتَمَوُّجَاتٍ.....  
وَمُسَاعَدَةٍ.....

10 أَكْتُبْ أَسْفَلَ صُورَةَ كُلِّ حَيَوَانٍ وَسَطِ عَيْشِهِ:





وَسَطُ بَرِّي - وَسَطُ مَائِي

أَرْتَبْ

ضَفْدَعَةٌ

سَمَكَةٌ

حِصَانٌ



.....

.....

.....

.....

11 أَحَدِّدْ نَمَطَ تَنَقُّلِ كُلِّ حَيَوَانٍ:

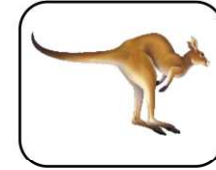

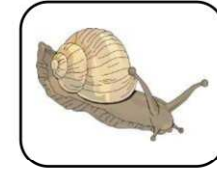

يَطِيرُ - يَعُومُ - يَقْفِزُ - يَزْحَفُ

سَمَكَةٌ

حَلَزُونٌ

حَمَامَةٌ

كَنْغَرُ



.....

.....

.....

.....



12 أَصِلْ صُورَةَ كُلِّ حَيَوَانٍ بِالْأَعْضَاءِ الَّتِي يَسْتَخْدِمُهَا لِلتَّنَقُّلِ:

سَمَكَةٌ

فَرَاشَةٌ

نَعَامَةٌ

حِمَارٌ



.....

.....

.....

.....

جَنَاحَانِ

زَعَانِفٌ

قَوَائِمٌ

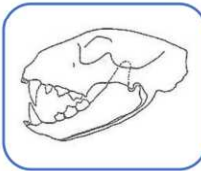
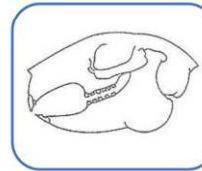
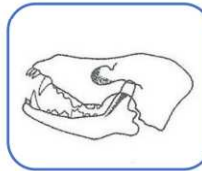
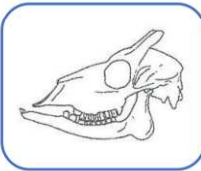
13 أَمَلًا الْفَرَاغَ بِالْكَلِمَةِ الْمُنَاسِبَةِ مِمَّا يَلِي:

الرَّعَائِفُ - الرِّئَةُ

..... عَضْوٌ يُمْكِنُ الْحَيَوَانَاتُ مِنَ الْعَيْشِ فِي وَسَطِ مَائِي.

..... عَضْوٌ يُمْكِنُ الْحَيَوَانَاتُ مِنَ الْعَيْشِ فِي وَسَطِ بَرِّي.

14 أَضِعْ عَلَامَةَ (+) تَحْتَ مُجْمَعَةِ الْحَيَوَانِ الْعَاشِبِ وَعَلَامَةَ (-) تَحْتَ مُجْمَعَةِ الْحَيَوَانِ لِلَّاحِمِ



.....

.....

.....

.....

15 أَتِمِّمْ بِالْكَلِمَةِ الْمُنَاسِبَةِ مِمَّا يَلِي:

أَنْيَابُهَا - مَخَالِبُهُ - قَوَاطِعِهَا

..... أَلْقَيْتُهُ تَقْضِمُ غِذَائَهَا بِ.....

..... تَسْتَعْمِلُ اللَّبْوَةَ..... فِي الْحُصُولِ عَلَى غِذَائِهَا.

..... يَسْتَعْمِلُ النَّسْرَ..... وَمِنْقَارَهُ فِي الْحُصُولِ عَلَى غِذَائِهِ.

20 أَحَدِّدَ حَالَةَ كُلِّ جِسْمٍ ثُمَّ أَصْعُ (X) فِي الْخَانَةِ الْمُنَاسِبَةِ

				جِسْمٌ صُلْبٌ
				جِسْمٌ سَائِلٌ
				جِسْمٌ غَازِيٌّ

21 أَكْتُبُ صَحِيحاً أَوْ خَطَأً:


الجِسْمُ السَّائِلُ لَيْسَ لَهُ شَكْلٌ خَاصٌّ. ←

الهَوَاءُ مَادَّةٌ مَرِيئَةٌ بِالْعَيْنِ الْمُجَرَّدَةِ. ←

الجِسْمُ الصَّلْبُ لَهُ شَكْلٌ خَاصٌّ. ←


16 أَحَدِّدَ النَّظَامَ الْعِدَائِيَّ لِكُلِّ حَيَوَانٍ : لَاحِمٌ - عَاشِبٌ مُجْتَرٌ - عَاشِبٌ قَارِضٌ

لَبَوَةٌ




.....

حَمَامَةٌ



.....

حَلَزُونٌ



.....



17 أَكُونُ سِلْسِلَةً غِذَائِيَّةً:

أَسَدٌ ←

..... ←

..... ←

18 أَرْتَّبُ مَرَاجِلَ التَّمَوُّعِ عِنْدَ الدِّيَكِ:



19 أَكْتُبُ صَحِيحاً أَوْ خَطَأً:

تَنُمُو الْحَيَوَانَاتِ وَيَزِيدُ وَزْنُهَا مَعَ مُرُورِ الزَّمَنِ. ←