


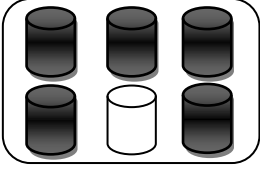


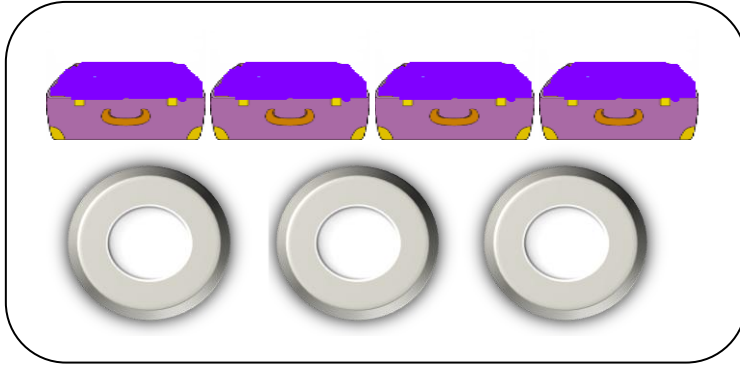
مراقبة مستمرة 1 المرحلة الأولى
المستوى الأول
الرياضيات

إسم التلميذ/ة:

1 أَشْطَبُ عَلَى الْعُنْصُرِ الدَّخِيلِ فِي كُلِّ مَجْمُوعَةٍ: (1ن)



2 أَلْوَنُ الْبَطَاقَةِ الْمُنَاسِبَةِ: (1ن)


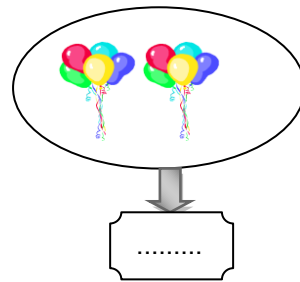

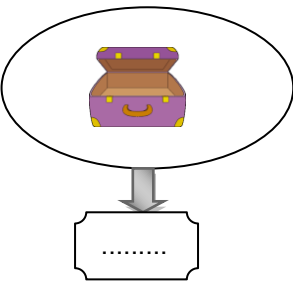


الْحَقَائِبُ بِقَدْرِ الدَّوَائِرِ

الْحَقَائِبُ أَكْثَرُ مِنَ الدَّوَائِرِ


الْحَقَائِبُ أَقَلُّ مِنَ الدَّوَائِرِ

3 أَكْتُبُ الْعَدَدَ الْمُنَاسِبَ دَاخِلَ الْبَطَاقَةِ: (1ن)



4 أَعِدُّ الْأَشْكَالَ ثُمَّ أَمْلَأُ الْجَدُولَ: (1ن)

.....



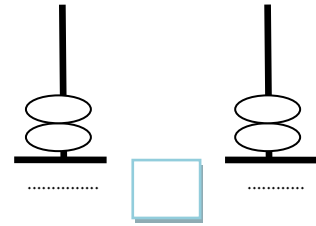
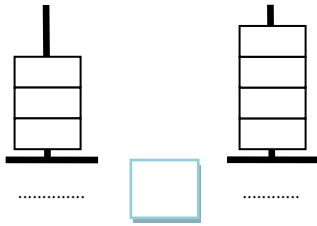
2

4

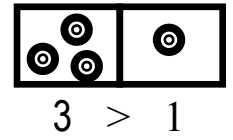
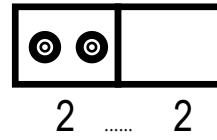
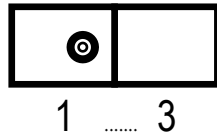
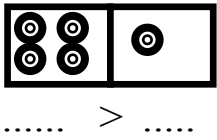
1

3

6 أَكْتُبُ الأَعْدَادَ المُمَثَّلَةَ عَلَى المَعْدَادِ ثُمَّ أَقَارِنُ بِاسْتِعْمَالِ الرُّمُوزِ: < = > (ن1)



7 أَكْمِلْ كَمَا فِي المِثَالِ التَّالِي: (ن2)



4 - 2 - 3 - 1

8 أَرْتَبُ تَصَاعُدياً الأَعْدَادَ التَّالِيَةَ: (ن1)

..... < < <

9 أَقَارِنُ الأَعْدَادَ بِكُتَابَةِ الرَّمْزِ المُنَاسِبِ: > أو < أو = (ن1)

1 1

4 4

4 3

1 2