

المستوى : الثالث
الأسدوس : الأول
الفرض : الأول

المملكة المغربية
وزارة التعليم الأولي والرياضة
المؤسسة :

مادة : الرياضيات

التاريخ :
الاسم :


المديرية الإقليمية:
المؤسسة:

1- J'effectue chaque opération (4 pts):

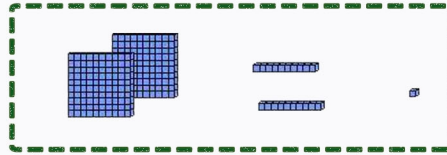
$$\begin{array}{r} 245 \\ \times 2 \\ \hline \end{array} \quad \begin{array}{r} 587 \\ - 421 \\ \hline \end{array} \quad \begin{array}{r} 566 \\ + 321 \\ \hline \end{array} \quad \begin{array}{r} 423 \\ + 529 \\ \hline \end{array}$$

= . . . = . . . = . . . = . . .


(2) أكتب كل عدد كتابة مختصرة بالأرقام كما في المثال (2ن):



$$100 + 50 + 3 = 153$$



$$\dots + \dots + \dots = \dots$$




$$\dots + \dots + \dots = \dots$$

(3) أرتب الأعداد من الأصغر إلى الأكبر (1ن) : 635 - 536 - 563 - 356

$$\dots < \dots < \dots < \dots$$

(4) ألون باللون نفسه كل ضلعين متوازيين في كل حالة (2ن)



(4) أرسم مستقيما يمر من النقطة ويكون عموديا على المستقيم (1ن)

