

نقطتي

10

مراقبة 2 في الرياضيات

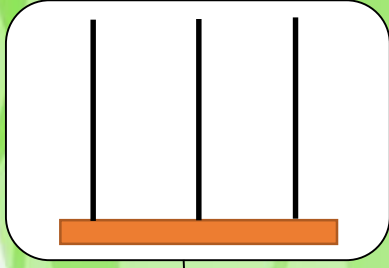
م 2

اسمي:

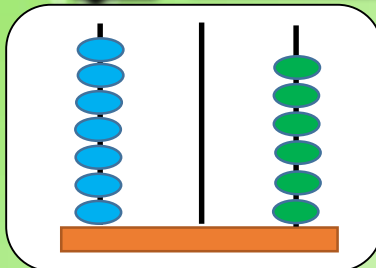
مدرستي:

2ن

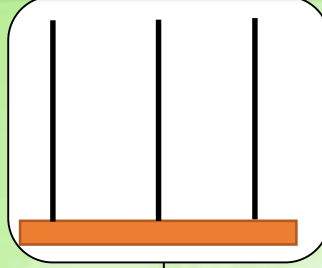
1- اكتب العدد المناسب أو أمثله على المحساب:



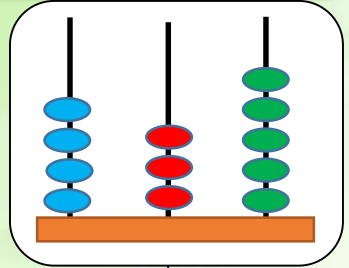
960



.....



741



.....

2ن

2- اقرن بأستعمال الرمز: > أو < أو =

700+3+40.....743

907.....900+2

409.....410

95.....101

2ن

3- أضع وأجز مايلي:

78-27

83-51

905+76

371+215

2ن

4- اقيس بأستعمال المسطرة المسطرة المسافة بين الفأر والجبنة:

..... cm + cm + cm = cm

2ن

5- احسب كتلة المواد الغذائية الثلاث ثم أرسم عقرب الميزان:

