



الفرض الثاني: للمراقبة المستمرة في مادة الرياضيات
المستوى الثالث ابتدائي

اعداد الأستاذ: سعيد الميس 

الدروس المستهدفة :

- (1) قياس الزوايا
- (2) الأعداد من 0 إلى 999 : قراءة، كتابة، مقارنة وترتيباً
- (3) الزوايا
- (4) الجمع في نطاق الأعداد من 0 إلى 999

➤ **Visitez nous sur :**

الموقع التربوي التعليمي الشامل

www.tahmilsoft.com

اسم المؤسسة

اسم المتعلم(ة)

(1) أنجز عمليتي الجمع والطرح التاليتين : (2ن)

$4\ 561 + 2\ 312$	$6\ 067 - 1\ 705$

(2) حول إلى الوحدة المطلوبة وذلك باستعمال جدول التحويلات : (2ن)

m	dm	cm	mm

\rightarrow 3 m = dm
 \rightarrow 4 mm = cm
 \rightarrow 10 dm = mm
 \rightarrow 24 dm = m

(3) رتب وحدات الأطوال التالية تصاعدياً : 24 cm - 35 cm - 12 cm - 6m (1ن)




(4) مثل الأعداد في الجدول أسفله : (2ن)

وحدات	عشرات	مئات	آلاف
879			
1 310			
9 804			
65			

(5) قارن الأعداد بوضع الرمز المناسب : ">" ; "<" ; "=" (1.5ن)

8 280 5 210 ; 1 253 1 000 ; 728 727+1

(6) اكتب اسم كل نوع من الزوايا التالية : (1.5ن)

		
.....