


التمرين الأول

1 أكْمِلْ حِسَابَ الْمَجَامِيعِ:



$$\dots + \dots = \dots$$



$$\dots + \dots = \dots$$



$$3 + 2 = \dots$$




$$2 + \dots = 3$$

2 أَحْسِبْ ثُمَّ أَضِعْ الرَّمَزَ الْمُنَاسِبَ = أو < أو >:



.....

.....



.....

.....

2 أتمم الجدول:

العدد الذي بعده	العدد	العدد الذي قبله
.....	9
.....	5
.....	6
.....	4
.....	2
.....	3
.....	7
.....	8

1 اكْتُبِ الْأَرْقَامَ بِالْحُرُوفِ:

.....

5

.....

6

.....

7


.....

8

.....

9

4 ألون ما يوجد على الطاولة بالأخضر وفوقها بالأحمر وتحتها بالأزرق:



3 ألون حسب المطلوب:

- بالأحمر خارج الخط
- بالأخضر داخل الخط
- بالأزرق على الخط

