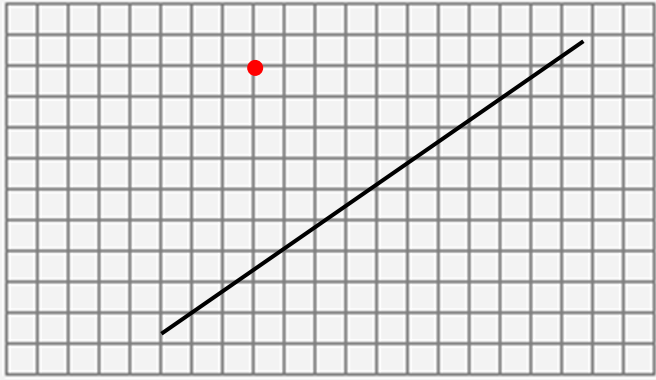





النشاط الرابع
أرسم مستقيماً عمودياً على المستقيم
ومر من النقطة الحمراء.



النشاط الخامس

أحسب عدد الدببة في الصورة الصغيرة وأقدر عددها في الصورة الكبيرة



عدد الدببة في الصورة الكبيرة هو :

النشاط السادس
أرتب القياسات من الأصغر إلى الأكبر

3 dm

4mm

4m

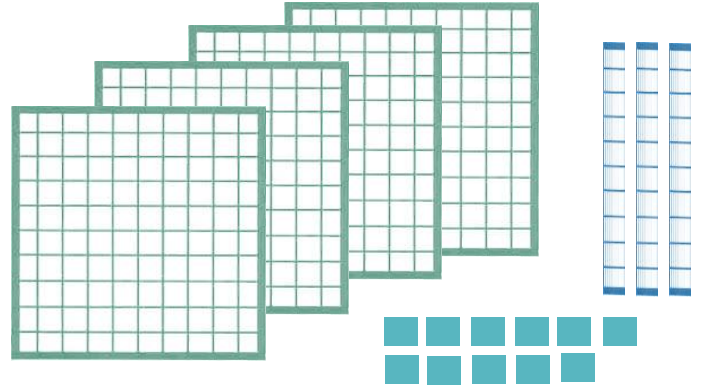
1 m

..... ; ;

النشاط الأول
أكتب الأرقام الناقصة في كل عملية:

235	5.3	$.59$
\times	$-$	$+$
$.$	98	$4..$
$.40$	$.6.$	937

النشاط الثاني
أكتب العدد كتابة رقمية وحرفية:



النشاط الثالث
أتمم ملاً الجدول أسفله : في العدد 497

الرقم 7 يمثل

الرقم يمثل 90

الرقم 4 يمثل وحدة.

$497 = \dots + \dots + \dots$