






تاريخ اليوم:

مراقبة مستمرة المرحلة الثالثة  
المستوى الأول

اسم التلميذ/ة:

الرياضيات

1 اكتب العدد المناسب داخل البطاقة: (2.5):

				
↓	↓	↓	↓	↓
.....	.....	.....	.....	.....

2 ألون أكبر عدد بالأحمر وأصغر عدد بالأصفر: (1)

9 3 7 8 5 2 1 6 4

3 احبط الحيوان الموجود خارج السياج: (1)



4 احبط ما يوجد أمام الطفل وأشطب على ما يوجد فوق الشجرة: (1)



5 أَضِعِ الرَّمْزَ التَّالِيَ مَكَانَ النُّقْطِ > أو = أو < (ن4)

6	.....	5	4	.....	4	9	.....	8	1	.....	4
3	.....	1	2	.....	2	6	.....	4	3	.....	7

6 أَصِلْ كُلَّ بِطَاقَةٍ بِالْعَدَدِ الْمُنَاسِبِ: (ن2)


$3 + 7$	10	$3 + 1$
$1 + 1 + 2$	4	$2 + 5 + 3$

6 - 4 - 2 - 8 - 3 - 1 - 9 - 7 - 5




7 ارْتَبِ تَصَاعُدِيًّا الْأَعْدَادَ التَّالِيَةَ: (3.5)




..... < ..... < ..... < ..... < ..... < ..... < ..... < .....

8 أَحِبِّطْ أَقْصَرَ شَرِيْطٍ وَأَشْطَبْ عَلَى أَطْوَلِ شَرِيْطٍ: (ن1)



9 اُتِمِّمْ مَا يَلِي: (ن2)


 $2 +$ 

 $+ 1 =$ 



 $1 +$ 

 $+$ 

 $=$

10 اُتِمِّمْ مَا يَلِي بِتَرْتِيبِ الْمُنْتَسَابِينَ حَسَبِ الْمَرْتَبَةِ الَّتِي أَحْتَلَّهَا كُلُّ مُتْسَابِقٍ: (ن2)

- 10 8 9 7 6 5 4 3 2 1

