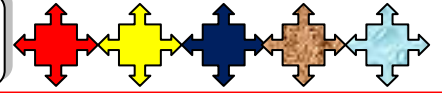


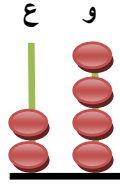
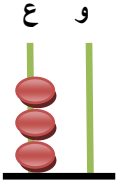


الإسم:



1 اكتب الأعداد المُمَثَّلة ثم أقرن بوضع الرَّمز المناسب مكان النقط: (3ن)



2 أون أكبر عدد بالأحمر وأصغر عدد بالأصفر: (1ن)

30

14

21

19

9

3 أكمل الشريط التالي بإضافة العدد 2 في كل مرة: (2,5ن)



4 أضع الرَّمز التالي مكان النقط > أو = أو <: (3ن)

$4 + 22$ 26	13 22	11 4
20 $2 + 18$	15 19	30 27

14 - 22 - 30 - 11 - 5

5 أرتب تصاعدياً الأعداد التالية: (2,5ن)

..... < < < <

6 أضع وأنجز ما يلي كما في المثال: (4ن)

$10 + 3$

ع و

1	0
	3
=	1 3

$13 + 5$

ع و

.	.
.	.
=	.

$11 + 8$

ع و

.	.
.	.
=	.

$17 + 2$

ع و

.	.
.	.
=	.

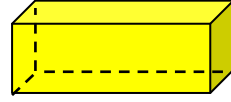
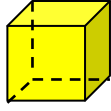

$10 + 10$

ع و

.	.
.	.
=	.


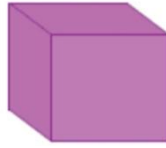
7

أَصِلْ كُلَّ مُجَسِّمٍ بِشَكْلِ قَاعِدَتِهِ: (1,5ن)



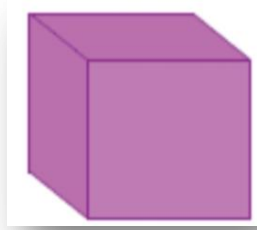
8

أَحِيطُ الْمَجَسِّمَاتُ الَّتِي تَتَدَخَّرُ: (1,5ن)



9

أَحِيطُ رُؤُوسَ الْمَجَسِّمَاتِ الَّتَالِيَةِ: (1ن)



الموقع التربوي التعليمي الشامل

www.tahmilsoft.com

